

ТИТУЛЬНЫЙ ЛИСТ

РЕГИОНАЛЬНЫЙ ЭТАП ВСЕРОССИЙСКОЙ ОЛИМПИАДЫ ШКОЛЬНИКОВ КИРОВСКАЯ ОБЛАСТЬ

Заполнять ЗАГЛАВНЫМИ ПЕЧАТНЫМИ БУКВАМИ по образцам

А Б В Г Д Е Ё Ж З И Й К Л М Н О П Р С Т У Ф Х Ц Ч Ш Щ Ъ Ы Э Ю Я 1 2 3 4 5 6 7 8 9 0 , -

1. Заполните поля «фамилия», «инициалы», «класс» на титульном листе, если они не заполнены. Заполните поле «класс» на всех листах работы, если оно не заполнено.

ШИФР КОМПЛЕКТА	ФАМИЛИЯ
903	Т У Н Г У С О В А
ПРЕДМЕТ	ИНИЦИАЛЫ
география	А . М .
ДАТА ПРОВЕДЕНИЯ (ДД.ММ.ГГГГ.)	КЛАСС
13 . 02 . 2017	09

2. По окончании работы пронумеруйте СТРАНИЦЫ (титульный лист не считать) и укажите общее количество использованных страниц.

ОБЩЕЕ КОЛИЧЕСТВО СТРАНИЦ 04

РЕЗУЛЬТАТЫ ВЫПОЛНЕНИЯ ЗАДАНИЙ ТЕОРЕТИЧЕСКОГО ТУРА В УКАЗАННУЮ ДАТУ ПРОВЕДЕНИЯ (заполняется жюри)

1	2	Сумма
12,75 18	10,20	28,20

Председатель жюри:



ТИТУЛЬНЫЙ ЛИСТ

РЕГИОНАЛЬНЫЙ ЭТАП ВСЕРОССИЙСКОЙ ОЛИМПИАДЫ ШКОЛЬНИКОВ КИРОВСКАЯ ОБЛАСТЬ

Заполнять ЗАГЛАВНЫМИ ПЕЧАТНЫМИ БУКВАМИ по образцам

А Б В Г Д Е Ё Ж З И Й К Л М Н О П Р С Т У Ф Х Ц Ч Ш Щ Ъ Ы Э Ю Я 1 2 3 4 5 6 7 8 9 0 , -

1. Заполните поля «фамилия», «инициалы», «класс» на титульном листе, если они не заполнены. Заполните поле «класс» на всех листах работы, если оно не заполнено.

ШИФР КОМПЛЕКТА	ФАМИЛИЯ
903	Т У Ч Г У С О В А
ПРЕДМЕТ	ИНИЦИАЛЫ
география	А . М .
ДАТА ПРОВЕДЕНИЯ (ДД.ММ.ГГГГ.)	КЛАСС
11 . 02 . 2017	09

2. По окончании работы пронумеруйте СТРАНИЦЫ (титульный лист не считать) и укажите общее количество использованных страниц.

ОБЩЕЕ КОЛИЧЕСТВО СТРАНИЦ 06

РЕЗУЛЬТАТЫ ВЫПОЛНЕНИЯ ЗАДАНИЙ ТЕОРЕТИЧЕСКОГО ТУРА В УКАЗАННУЮ ДАТУ ПРОВЕДЕНИЯ (заполняется жюри)

1	2	3	4	5	Сумма
1,0	3,0	0,75	0,0	8,5	13,25

Председатель жюри:

Всероссийская олимпиада школьников по географии 2016/2017 г.



код участника
(не заполнять!)

Региональный этап

Листы для ответа на задание первого тура
для 9-х классов

Тунусова Анастасия Михайловна

ФИО участника (заполнить обязательно!)

Всероссийская олимпиада школьников по ГЕОГРАФИИ
 Региональный этап 2016/2017 г.
 Задание первого тура для 9-х классов

903
 код участника
 не заполнять!)

Лист ответов на задачу 1

А.

№	Река (название)	График (буквенное обозначение)	Ответы на дополнительные вопросы (выделены жирным шрифтом)
1	Амзон	В	—
2	—	Г _{0,5} О _{0,5}	—
3	Ганг	А	—
4	—	Б _{0,5} О _{0,5}	—

Б.

1. Максимальный расход воды наблюдается в июне и июле. Река имеет дождевой тип питания

2.

3. Максимальный расход воды в августе, сентябре и октябре

4.

В.

Название реки	Объяснение

А Б В

1

0

1

2

1

Лист ответов на задачу 2

А. Современные государства:

Индия, Сауды, Иран, Израиль, Турция + 0,5 1,0

Б. Акватории:

Аравийское море, Персидский залив, Черное море,
Пролив Босфор, Азовское море

Самая глубокая – Аравийское море 0,25

Самая мелкая – Азовское море

Самая солёная – Персидский залив 0,25

Самая пресная – Черное море 0,25 1,50

В. В какое время года, скорее всего, начался путь домой Афанасия Никитина?

Какие природные факторы этому благоприятствовали?

В какое время года на «третьем море», которое переплыл Афанасий Никитин, чаще всего штормит?

осенью

Г. Горы (горные системы):

Самая высокая горная система _____

Название главной вершины _____

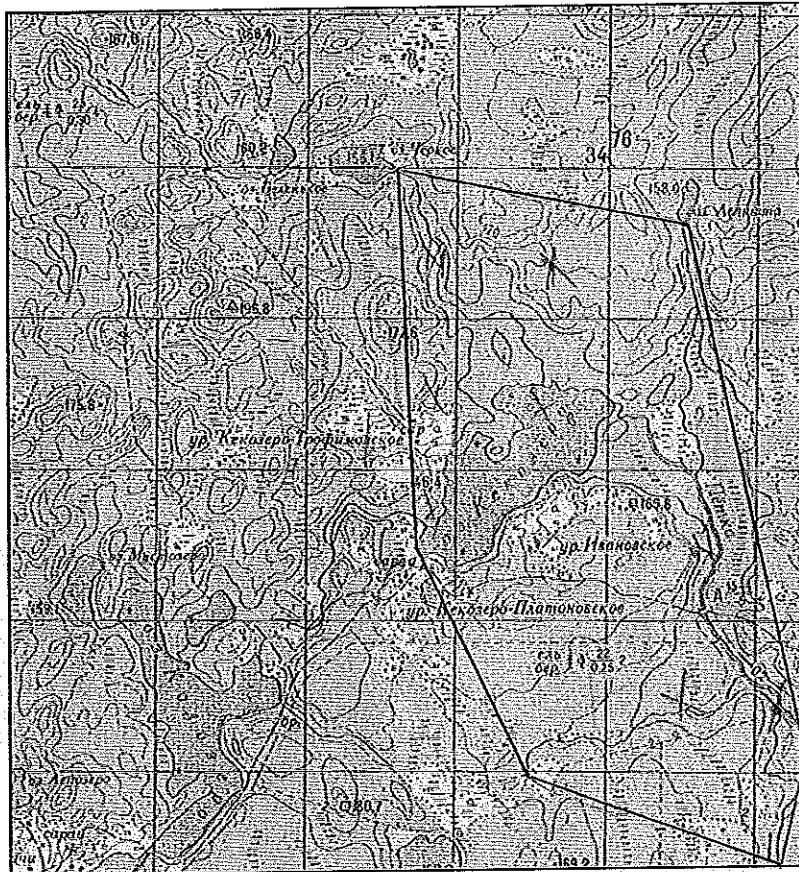
Абсолютная высота главной вершины _____ м

Умнож: 2,50
2,50
+ 0,5

903

код участника
 не заполнять!

Лист ответов на задачу 3



050

Элемент задания	Ответ		
Площадь водосбора оз. Кеозеро, км ²	9 км ²	0	0
Объем воды, который озеро получает в среднем за год с поверхностным стоком, м ³		0	0
Тип зональной растительности, характерной для данной природной зоны	растительность смешанных лесов	0,5	0,5
Характеристика зональной растительности	характерны еловые и беризовые леса небольшое кол-во листвя ресурсов	0,25	0,25
Изменения, которые внесла в растительный покров деятельность человека		0	0
Виды хозяйственной деятельности, наиболее негативно влияющей на экологическое состояние озёр вблизи от точки с координатами 56°с.ш. 72°в.д. Механизм этого влияния	добывающая промышленность	0	0

0,75

Всероссийская олимпиада школьников по ГЕОГРАФИИ
 Региональный этап 2016/2017 г.
 Задание первого тура для 9-х классов


903

код участника
 не заполнять!)

Лист ответов на задачу 4

Элемент задания	Ответ
Название предприятия	
Субъект Российской Федерации	
Два других субъекта Российской Федерации, входящих в число лидеров по объёмам производства как 28, так и 29	
Что обозначают приведённые в задании числа (номера)?	<i>основные виды продукции предприятий</i>
Вид продукции 28	
Вид продукции 29	
Вид продукции 46	<i>чай</i>

05
 /
05.



код участника
не заполнять!)

Лист ответов на задачу 5

А.

Города-лидеры (не больше трёх)	Города-аутсайдеры (не больше трёх)
Сочи 1,5	Москва 1,5
Саранск 1,5	Самара - Тольятти 1,5
Казань 0	Екатеринбург 1,5

4,55

Б.

Крупнейший город России, НЕ принимающий матчи Чемпионата мира по футболу
2018 года:

Новосибирск

15

8,5

8,55

Всероссийская олимпиада школьников по географии 2016/2017 г.

903

код участника
(не заполнять!)

**Региональный этап
Листы для ответа на задания 2 тура**

Тунгусова Анастасия Михайловна

ФИО участника (заполнить обязательно!)

**ВНИМАНИЕ!
ПОСЛЕ ВЫПОЛНЕНИЯ ЗАДАНИЯ ЛИСТЫ ДЛЯ ОТВЕТА
НЕОБХОДИМО СДАТЬ ВМЕСТЕ С КАРТОЙ.**

903

код участника
(не заполнять!)

Часть 1 (тесты)

№	Ответ (А – Г)
1	В ✓
2	-Б-
3	-В-
4	-Б-
5	В ✓
6	-А-
7	Г ✓
8	Б ✓
9	-А-
10	В ✓

№	Ответ (А – Г)
11	Б ✓
12	В ✓
13	Г ✓
14	Г ✓
15	-Г-
16	-Б-
17	Г ✓
18	В ✓
19	-А-
20	-Г-

№	Ответ (А – Г)
21	-А-
22	А ✓
23	А ✓
24	-Г-
25	Б ✓
26	-Г-
27	В ✓
28	Б ✓
29	В ✓
30	А ✓

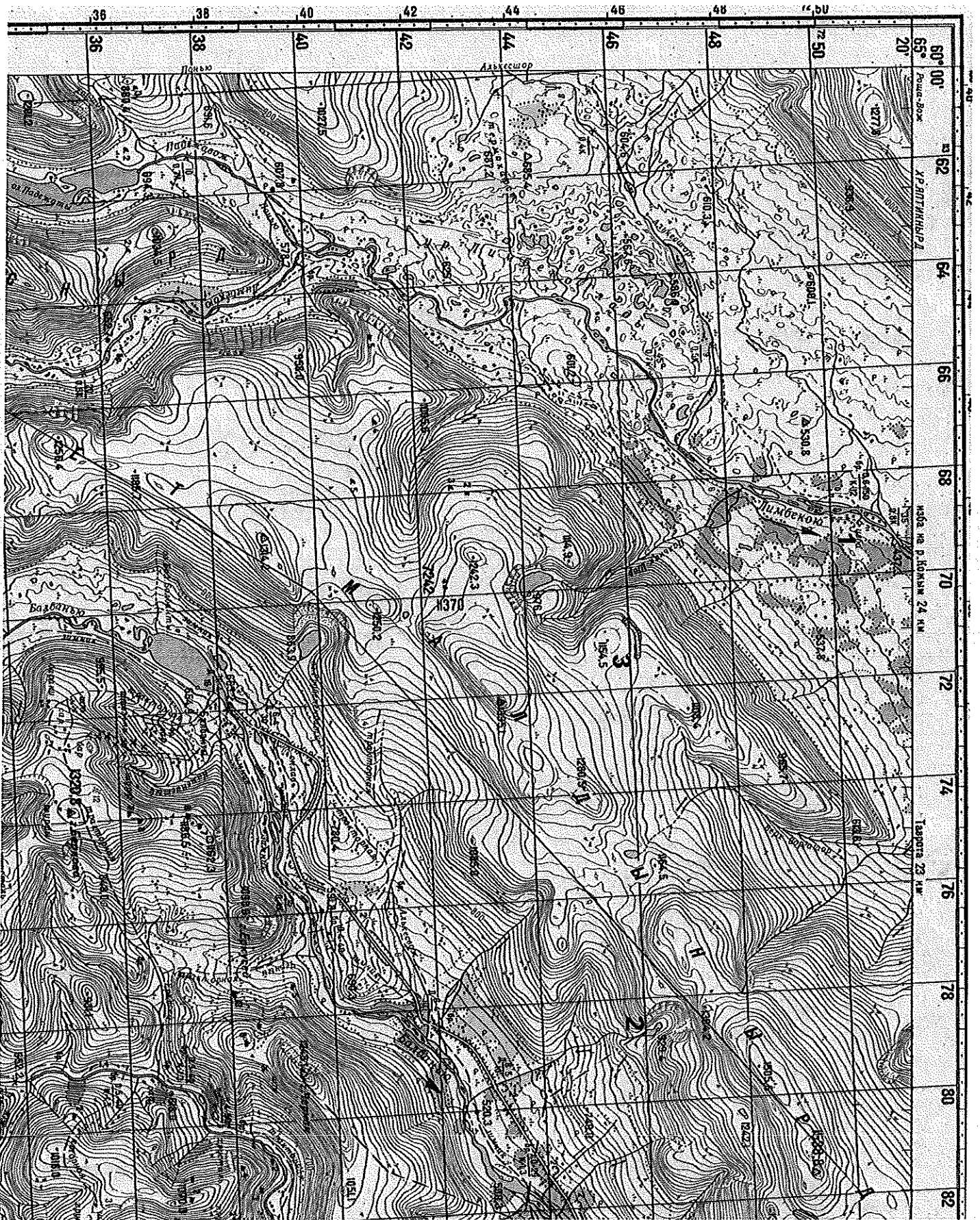
18

185

Всероссийская олимпиада школьников по географии 2016/2017 г.

Часть 2 (ответы на вопросы по карте)*

№	Ответ	Балл
1	0	0
2	0	0
3	Линию водораздела проведите на карте	1 1
4	1101,5 м 1101,5 м 18	1 1
5	1:100000 28	2 2
6	0	0
7	25400 м 1	1 1
8	г. Народная ^{0,5} 1641 м 0	0,5 0,5
9	Обозначьте направление течения рек стрелками на карте	1 1
10	Количество типов дорог 3	0,2
	Перечислите типы дорог автодорога, проселочная дорога	0,2
	Направление дороги с лучшими условиями движения Г +	
11	Начертите линию трассы на карте	1,5 1,5
12	В, 3	1 1
13	добывающая промышленность	1 1
14	Количество рейсов _____	0 0
	Место для расчётов	



3-15
 9-15
 11-155
 450